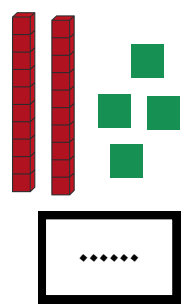
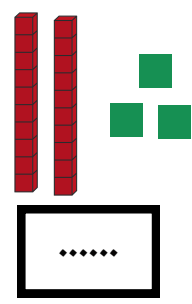


أكتب الأرقام الممثلة بقطع الوحدات والاعمدة العشرات

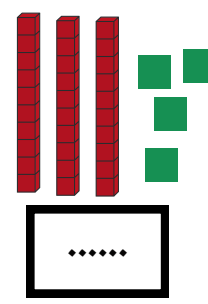
الوضعية 1



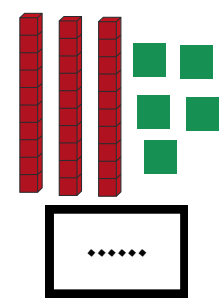
.....



.....



.....



.....

فك الأعداد التالية

الوضعية 2

26 = + +
26 = +

32 = + + +
32 = +

39 = + + +
39 = +

28 = + +
28 = +

أحسب العمليات الآتية

الوضعية 3

19 - 3 = ...

29 - 5 = ...

17 + 7 = ...

24 + 6 = ...

33 + 6 = ...

رتب الأعداد التالية تصاعديا

الوضعية 4

23 ، 37 ، 5 ، 16 ، 18 ، 22 → ، ، ، ،


→ ، ، ، ، ، ، ، ،

لون نصف الفواكه في كل مجموعة



أرسم ضعف القريصات

الوضعية 5



عَدَدُ إِنَاثِ السَّنَةِ الْأُولَى 21 وَعَدَدُ الذُّكُورِ 8 .

الوضعية الإدماجية

• مَا هُوَ عَدَدُ كُلِّ تَلَامِيذِ السَّنَةِ الْأُولَى ؟

- العملية : =

• عَدَدُ كُلِّ تَلَامِيذِ السَّنَةِ الْأُولَى . تَلْمِيذ